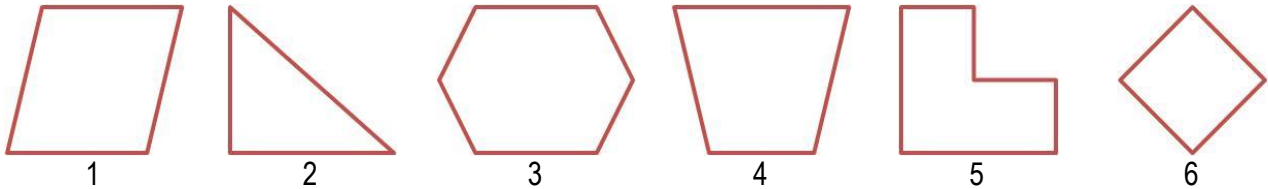


Участник _____


1. Отметь все четырехугольники.



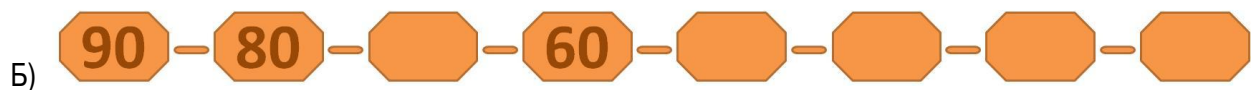
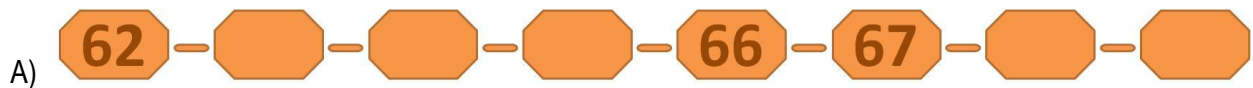
2. Отметь числа, которые делятся на 3.



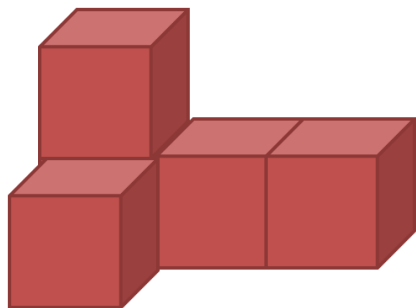
3. Измерь, сколько сантиметров каждый карандаш.



4. Напиши пропущенные цифры.



5. Сколько кубиков нужно, чтобы собрать такую фигуру?




Ответ: кубиков.

6. Определи какое время показывают часы.




7. Реши примеры у бабочек на крыльях и соедини каждую с соответствующим цветком.

А)



Б)








В)



Г)



Д)



8. В корзине лежит 6 мухоморов, 12 подберёзовика и 13 белых гриба.
Сколько съедобных грибов в корзине?



Мухомор



Подберёзовик



Белый гриб

Ответ: съедобных грибов.

9. Вычисли сколько яблок.

В корзине на 3 десятка больше, чем на тарелке.

В ящике вмещается на 12 яблок больше, чем в корзине.

Если собрать все яблоки с дерева, то будет 2 ящика и 1 корзина.



10 яблок



_____ яблок



_____ яблок



_____ яблок

10. Сколько стоит каждая игрушка?

